

ТИТУЛЬНЫЙ ЛИСТ

Всероссийская олимпиада школьников

школьный этап

Заполняется ПЕЧАТНЫМИ БУКВАМИ чернилами черного или синего цвета по образцам:

А	Б	В	Г	Д	Е	Ж	З	И	К	Л	М	Н	О	П	Р	С	Т	У	Ф	Х	Ц	Ч	Ш	Щ	Ъ	Ы	Ь	Э	Ю	Я	@	8	9	,
A	B	C	D	E	F	G	H	I	J	K	L	M	N	O	P	Q	R	S	T	U	V	W	X	Y	Z	1	2	3	4	5	6	7	0	.

ПРЕДМЕТ

КЛАСС

ДАТА . .

ШИФР
УЧАСТНИКА

ФАМИЛИЯ
ИМЯ
ОТЧЕСТВО

Документ удостоверяющий личность

Гражданство

свидетельство о рождении

паспорт

Российская
Федерация

серия

номер

Иное

Дата рождения . .

Домашний телефон участника + 7

Мобильный телефон участника + 7

Электронный адрес участника

Муниципалитет

Сокращенное наименование образовательной организации
(школы)

Сведения о педагогах-наставниках

1. Фамилия
Имя
Отчество

Сокращенное наименование образовательной организации
(школы)

Личная подпись участника		Все поля обязательны к заполнению!
--------------------------	--	------------------------------------

0020706

ВСЕРОССИЙСКАЯ ОЛИМПИАДА
ШКОЛЬНИКОВОБЗР.2024–2025уч.г.
ШКОЛЬНЫЙЭТАП.7–8 КЛАССЫ

Максимальный балл за работу–100.

Тестовые задания

Определите один правильный ответ.

За правильный ответ начисляется 2 балла.

1. В соответствии с ПДД РФ лицо (кроме водителя), которое входит в транспортное средство(садится на него), пассажиром
 - не является
 - + √ • является всегда
 - является только в возрасте младше 7 лет
 - не является в возрасте старше 14 лет
2. Категорически запрещается размещать газовые баллоны от газовой плиты на расстоянии менее
 - 0,5 м
 - • 0,3 м
 - √ • 1 м
 - 1,5 м
3. Для не умеющих плавать пользователей любого возраста и любой массы тела рекомендуется выбирать спасательный жилет, имеющий уровень плавучести
 - 50
 - √ • 100
 - 120
 - 150
4. Агентством по обеспечению и координации российского участия в международных гуманитарных операциях является
 - √ • ОКСИОН
 - • ЛИДЕР
 - ВЦЭРМ
 - ЭМЕРКОМ
5. Определите опасное гидрологическое явление (процесс).
 - √ • курум
 - • карст
 - тайфун
 - сель

6. В Москве зелёный контейнер типа колокол для отдельного сбора мусора предназначен для

- картона
- стекла
- бумаги
- ✓ • пластика

7. Определите минимальное рекомендуемое расстояние эвакуации при обнаружении предмета, подозрительного на взрывное устройство (кейс).

- 230 м
- ✓ • 250 м
- 60 м
- 460 м



8. Верны ли следующие суждения?

Понятие рационального питания включает соблюдение следующих принципов:

- обеспечение баланса энергии, поступающей с пищей и расходуемой человеком в процессе жизнедеятельности

- удовлетворение потребности организма во всех пищевых веществах

- верно только А

- верно только Б

- ✓ • верны оба суждения

- оба суждения не верны

9. В результате ожога руки горячей водой на месте травмы появились покраснение, отёк, единичные пузыри с прозрачным содержимым. Пострадавший жалуется на жгучую боль. По признакам определите степень ожога.

- первая

- ✓ • вторая

- третья

- четвёртая

10. Оклюзионная повязка применяется при ранении

- ✓ • головы

- груди

- конечностей

- таза

Определите два правильных ответа.

За каждый правильный ответ начисляется 2 балла.

0 баллов выставляется за неправильный ответ, а также, если участником отмечено более двух ответов (в том числе правильные).

11. Какие виды костров рекомендуют использовать для приготовления пищи, просушки белья и обогрева?

- «Нодья»
- ✓ «Пирамида»
- «Полинезийский»
- «Шалаш»
- ✓ «Решётка»

12. Что НЕ РЕКОМЕНДУЕТСЯ делать в грозу?

- разводить костёр
- прятаться под низкими кустарниками
- ✓ прижиматься к стволу дерева
- находиться от дерева на расстоянии 4–5 м
- сидеть в позе эмбриона

13. Что относится к сопутствующим проявлениям опасных факторов пожара?

- снижение видимости в дыму
- воздействие огнетушащих веществ
- тепловой поток
- ✓ повышенная температура окружающей среды
- опасные факторы взрыва, произошедшего вследствие пожара

14. Определите дату создания РСЧС.

- 8 мая
- 18 апреля
- 15 июня
- 1993 года
- ✓ 1992 года

15. Определите признаки устойчивого ненастья.

- сильно мерцают звёзды
- в воздухе сырость днём и ночью, даже при отсутствии дождя
- ночью нет росы или она очень слабая
- венцы вокруг Луны уменьшаются
- ✓ мелкие птицы забиваются в середину кроны деревьев

16. Определите рекомендации безопасного поведения в лифте.

- постарайтесь по возможности быстрее выйти из лифта
- ✓ если с вами в лифт садится незнакомец, пропустите его, поднимитесь позже или воспользуйтесь лестницей
- 0 если с вами в лифт садится незнакомец, достаньте мобильный телефон, тем самым показывая, что готовы воспользоваться им
- если с вами в лифт садится незнакомец, постарайтесь занять угол в лифте
- не спешите заходить в лифт, осмотритесь

17. Экстремистская деятельность (экстремизм) – это

- публичное оправдание терроризма
- подстрекательство к террористическому акту
- вербовка, вооружение, обучение и использование террористов
- пропаганда идей терроризма
- 1 ✓ • воспрепятствование осуществлению гражданами их избирательных прав

18. Какие из пищевых веществ относятся к макронутриентам?

- витамины
- 0 ✓ • макроэлементы
- белки
- микроэлементы
- жиры

19. Пешеход поскользнулся, упал с упором на вытянутую руку. В области запястья появились резкая боль, отёк. Какие суставы необходимо иммобилизовать в данном случае?

- плечевой
- 2 ✓ • локтевой
- ✓ • лучезапястный
- пястно-фаланговые
- межфаланговые

20. Что рекомендуется делать для определения наличия (отсутствия) сознания у пострадавшего при оказании первой помощи?

- ✓ • аккуратно похлопать по щекам пострадавшего
- обратиться к пострадавшему вопросом, например, «Вы в порядке?»
- растереть мочки ушей пострадавшего
- 1 ✓ • осторожно встряхнуть за плечи
- похлопать в ладоши передухом пострадавшего






Максимальный балл за тестовые задания – 60.

15

Теоретические задания

21. На территории России можно встретить растения, представляющие угрозу для здоровья человека. Каждый должен знать о таких растениях и уметь их отличать.

Установите соответствие между изображением растения и его названием.

		Белладонна (красавка)
	ч	Вёхядовитый
	ч	Борщевик Сосновского
		Клещевина
		Белена чёрная

8

22. Подробный осмотр пострадавшего при оказании первой помощи выполняется в определённой последовательности.

Расставьте наименования анатомических областей тела человека в последовательности выполнения их осмотра.

Очерёдность выполнения подробного осмотра
1.
2.
3.
4.
5.
6.

Наименование анатомических областей тела человека
Конечности 5
Грудь 3 2
Спина 4 2
Голова 1
Шея 2
Живот и таз 6

4

23. Выберите **два** цели подробного осмотра пострадавшего.

- выявление признаков наружного кровотечения
- выявление признаков травм
- 4 ✓ выявление признаков отравлений, других состояний, угрожающих жизни и здоровью пострадавшего
- контроль за состоянием пострадавшего
- ✓ определение признаков жизни пострадавшего

24. Флаги на пляжах предназначены для информирования пользователей о потенциальных рисках.

Какой флаг вывешивается на пляжах Российской Федерации, когда купание запрещено?

- чёрный
- жёлтый
- фиолетовый
- ✓ • чёрный/красный (разделённый на четыре части)
- жёлтый флаг с центральным чёрным кругом

0

Определите, о чём информируют изображённые флаги на пляжах за пределами Российской Федерации.

Значение флага: средняя опасность; высокая опасность; присутствуют морские вредители; присутствует морской ветер, надувные лодки использовать нельзя; использование водного транспорта запрещено (например, доски для сёрфинга); рекомендуемая зона для купания под наблюдением спасателей; район плавсредств.

25. Определите, о чём информирует изображённый флаг на пляжах за пределами Российской Федерации.



Высокая опасность.

3

26. Определите, о чём информирует изображённый флаг на пляжах за пределами Российской Федерации.



Средняя опасность.

27. Определите, о чём информирует изображённый флаг на пляжах за пределами Российской Федерации.



Присутствуют морские вредители.

28. Определите, о чём информирует изображённый флаг на пляжах за пределами Российской Федерации.



Присутствует морской ветер.

3

6

Максимальный балл за работу – 100.

Офф. Иванов М. Ю.
Офф. Горанова С. В.
Офф. Силвер Е. Н.

335 x 3 =
99

ТИТУЛЬНЫЙ ЛИСТ

Всероссийская олимпиада школьников

школьный этап

Заполняется ПЕЧАТНЫМИ БУКВАМИ чернилами черного или синего цвета по образцам:

А	Б	В	Г	Д	Е	Ж	З	И	К	Л	М	Н	О	П	Р	С	Т	У	Ф	Х	Ц	Ч	Ш	Щ	Ъ	Ы	Ь	Э	Ю	Я	@	8	9	,
А	В	С	Д	Е	Ф	Г	Н	И	К	Л	М	Н	О	Р	Q	R	S	T	U	V	W	X	Y	Z	1	2	3	4	5	6	7	0	.	

ПРЕДМЕТ 0 8 3 P

КЛАСС 7 B

ДАТА 14 . 20 . 20 24

ШИФР
УЧАСТНИКА

0 0 2 0 7 0 2

ФАМИЛИЯ Зажарова
 ИМЯ Илария
 ОТЧЕСТВО Денисова

Документ удостоверяющий личность

свидетельство о рождении

паспорт

Гражданство
 Российская Федерация

серия

номер

Иное

Дата рождения 28 . 08 . 20 11

Домашний телефон участника + 7

Мобильный телефон участника + 7 9 288 2568 55

Электронный адрес участника

Муниципалитет Терновский муниципальный округ
 Сокращенное наименование образовательной организации (школы)

МБОУ школа №2

Сведения о

педагогах-наставниках

1. Фамилия Иваков
 Имя Михаил
 Отчество Юрьевич

Сокращенное наименование образовательной организации (школы)

МБОУ школа №2

Личная подпись участника



Все поля обязательны к
заполнению!

0020702

ВСЕРОССИЙСКАЯ ОЛИМПИАДА
ШКОЛЬНИКОВОБЗР.2024–2025уч.г.
ШКОЛЬНЫЙЭТАП.7–8 КЛАССЫ

Максимальныйбаллзаработу–100.

Тестовыезадания

Определитеодинправильныйответ.

Заправильныйответначисляется2балла.

1. В соответствии с ПДД РФ лицо (кроме водителя), которое входит в транспортное средство (садится на него), пассажиром

• не является

2

является всегда

• является только в возрасте младше 7 лет

• не является в возрасте старше 14 лет

2. Категорически запрещается размещать газовые баллоны от газовой плиты на расстоянии не менее

• 0,5 м

0

• 0,3 м

• 1 м

1,5 м

3. Для не умеющих плавать пользователей любого возраста и любой массы тела рекомендуется выбрать спасательный жилет, имеющий уровень плавучести

• 50

• 100

0

120

• 150

4. Агентством по обеспечению и координации российского участия в международных гуманитарных операциях является

• ОКСИОН

0

ЛИДЕР

• ВЦЭРМ

• ЭМЕРКОМ

5. Определите опасное гидрологическое явление (процесс).


курум


0

• карст

• тайфун

• сель



6. В Москвезелёный контейнер типа колокол для раздельного сбора мусора предназначен для
- картона
 - 2 • стекла
 - бумаги
 - пластика
7. Определите минимальное рекомендуемое расстояние эвакуации при обнаружении предмета, подозрительного на взрывное устройство (кейс).
- 230 м
 - 250 м
 - 0 • 60 м
 - 460 м
- 
8. Верны ли следующие суждения?
Понятие рационального питания включает соблюдение следующих принципов:
- обеспечение баланса энергии, поступающей с пищей и расходуемой человеком в процессе жизнедеятельности
 - удовлетворение потребности организма во всех пищевых веществах
 - 0 • верно только А
 - верно только Б
 - верны оба суждения
 - оба суждения неверны
9. В результате ожога руки горячей водой на месте травмы появились покраснение, отёк, единичные пузыри с прозрачным содержимым. Пострадавший жалуется на гучую боль. По признакам определите степень ожога.
- первая
 - 0 • вторая
 - третья
 - четвёртая
10. Окклюзионная повязка применяется при ранении
- головы
 - 2 • груди
 - конечностей
 - таза

Определите два правильных ответа.

За каждый правильный ответ начисляется 2 балла.

0 баллов выставляется за неправильный ответ, а также, если участником отмечено более двух ответов (в том числе правильные).

11. **Какие виды костров рекомендуют использовать для приготовления пищи, просушки белья и обогрева?**

- «Нодья»
- «Пирамида»
- 1 «Полинезийский»
- 1 «Шалаш»
- «Решётка»

12. **Что НЕ РЕКОМЕНДУЕТСЯ делать в грозу?**

- разводить костёр
- прятаться под низкими кустарниками
- 1 прижиматься к стволу дерева
- находиться от дерева на расстоянии 4–5 м
- сидеть в позе эмбриона

13. **Что относится к сопутствующим проявлениям опасных факторов пожара?**

- снижение видимости в дыму
- воздействие огнетушащих веществ
- 1 тепловой поток
- повышенная температура окружающей среды
- 1 опасные факторы взрыва, произошедшего вследствие пожара

14. **Определите дату создания РСЧС.**

- 8 мая
- 18 апреля
- 1 15 июня
- 1993 года
- 1 1992 года

15. **Определите признаки устойчивого ненастья.**

- сильно мерцают звёзды
- ввоздух сырость днём и ночью, даже при отсутствии дождя
- 1 ночью нет росы или она очень слабая
- венцы вокруг Луны уменьшаются
- 1 мелкие птицы забиваются в середину кроны деревьев

16. Определите рекомендации безопасного поведения в лифте.

- постарайтесь по возможности быстрее выйти из лифта
- если с вами в лифт садится незнакомец, пропустите его, поднимитесь позже или воспользуйтесь лестницей
- если с вами в лифт садится незнакомец, достаньте мобильный телефон, тем самым показывая, что готовы воспользоваться им
- 0 если с вами в лифт садится незнакомец, постарайтесь занять угол в лифте
- не спешите заходить в лифт, осмотритесь

17. Экстремистская деятельность (экстремизм) – это

- публичное оправдание терроризма
- 0 подстрекательство к террористическому акту
- вербовка, вооружение, обучение и использование террористов
- 0 пропаганда идей терроризма
- воспрепятствование осуществлению гражданами их избирательных прав

18. Какие из пищевых веществ относятся к макронутриентам?

- витамины
- макроэлементы
- 1 белки
- микроэлементы
- жиры

19. Пешеход поскользнулся, упал с упором на вытянутую руку. В области запястья появились резкая боль, отёк. Какие суставы необходимо иммобилизовать в данном случае?

- плечевой
- локтевой
- 0 лучезапястный
- 0 пястно-фаланговые
- межфаланговые

20. Что рекомендуется делать для определения наличия (отсутствия) сознания у пострадавшего при оказании первой помощи?

- аккуратно похлопать по щекам пострадавшего
- 1 обратиться к пострадавшему вопросом, например, «Вы в порядке?»
- растереть мочки ушей пострадавшего
- осторожно встряхнуть за плечи
- похлопать в ладоши передухом пострадавшего






13

Максимальный балл за тестовые задания – 60.

Теоретические задания

21. На территории России можно встретить растения, представляющие угрозу для здоровья человека. Каждый должен знать о таких растениях и уметь их отличать.

Установите соответствие между изображением растения и его названием.

		Белладонна (красавка)	5
		Вёхядовитый	
		Борщевик Сосновского	5
		Клещевина	
		Белена чёрная	7

12

22. Подробный осмотр пострадавшего при оказании первой помощи выполняется в определённой последовательности.

Расставьте наименования анатомических областей тела человека в последовательности выполнения их осмотра.

Очередность выполнения подробного осмотра	Наименование анатомических областей тела человека
1.	Конечности
2.	Грудь
3.	Спина
4.	Голова
5.	Шея
6.	Живот и таз

+
+
4


23. Выберите **две** цели подробного осмотра пострадавшего.

- выявление признаков наружного кровотечения
- выявление признаков травм
- 4 выявление признаков отравлений, других состояний, угрожающих жизни и здоровью пострадавшего
- контроль за состоянием пострадавшего
- определение признаков жизни у пострадавшего

24. Флаги на пляжах предназначены для информирования пользователей о потенциальных рисках.

Какой флаг вывешивается на пляжах Российской Федерации, когда купание запрещено?

- чёрный
 - жёлтый
 - фиолетовый
 - чёрный/красный (разделённый на четыре части)
 - жёлтый флаг с центральным чёрным кругом
- 0



0020702

Определите, о чём информируют изображённые флаги на пляжах в пределах Российской Федерации.

Значение флага: средняя опасность; высокая опасность; присутствуют морские хищники; присутствует морская ветер, надувные лодки использовать нельзя; использование водного транспорта запрещено (например, доски для сёрфинга); рекомендуемая зона для купания под наблюдением спасателей; район плавсредств.

25. Определите, о чём информирует изображённый флаг на пляжах в пределах Российской Федерации.



_____.

26. Определите, о чём информирует изображённый флаг на пляжах в пределах Российской Федерации.




_____.

27. Определите, о чём информирует изображённый флаг на пляжах в пределах Российской Федерации.

_____.

28. Определите, о чём информирует изображённый флаг на пляжах в пределах Российской Федерации.



_____.

Максимальный балл за работу – 100.

Иванов М.Ю.
Тарашова С.В.
Андреев Е.И.

0

295 x 3
= 87

32

2024

ТИТУЛЬНЫЙ ЛИСТ

Всероссийская олимпиада школьников

школьный этап

Заполняется ПЕЧАТНЫМИ БУКВАМИ чернилами черного или синего цвета по образцам:

А	Б	В	Г	Д	Е	Ж	З	И	К	Л	М	Н	О	П	Р	С	Т	У	Ф	Х	Ц	Ч	Ш	Щ	Ъ	Ы	Ь	Э	Ю	Я	@	8	9	,
A	B	C	D	E	F	G	H	I	J	K	L	M	N	O	P	Q	R	S	T	U	V	W	X	Y	Z	1	2	3	4	5	6	7	0	.

ПРЕДМЕТ КЛАСС

ДАТА . .

ШИФР
УЧАСТНИКА

ФАМИЛИЯ
ИМЯ
ОТЧЕСТВО

Документ удостоверяющий личность свидетельство о рождении паспорт
Гражданство Российская Федерация Иное
серия
номер

Дата рождения . .

Домашний телефон участника + 7
Мобильный телефон участника + 7
Электронный адрес участника

Муниципалитет
Сокращенное наименование образовательной организации (школы)

Сведения о педагогах-наставниках

1. Фамилия
Имя
Отчество
Сокращенное наименование образовательной организации (школы)

Личная подпись участника Все поля обязательны к заполнению!

0020804

ВСЕРОССИЙСКАЯ ОЛИМПИАДА
ШКОЛЬНИКОВОБЗР.2024–2025уч.г.
ШКОЛЬНЫЙЭТАП.7–8 КЛАССЫ

Максимальный балл за работу–100.

Тестовые задания

Определите один правильный ответ.

За правильный ответ начисляется 2 балла.

1. В соответствии с ПДД РФ лицо (кроме водителя), которое входит в транспортное средство(садится на него), пассажиром
 - не является
 - + является всегда
 - является только в возрасте младше 7 лет
 - не является в возрасте старше 14 лет
2. Категорически запрещается размещать газовые баллоны от газовой плиты на расстоянии менее
 - 0,5 м
 - 0,3 м
 - 1 м
 - 1,5 м
3. Для не умеющих плавать пользователей любого возраста и любой массы тела рекомендуется выбирать спасательный жилет, имеющий уровень плавучести
 - 50
 - 100
 - 120
 - 150
4. Агентством по обеспечению и координации российского участия в международных гуманитарных операциях является
 - ОКСИОН
 - ЛИДЕР
 - ВЦЭРМ
 - ЭМЕРКОМ
5. Определите опасное гидрологическое явление (процесс).
 - курум
 - карст
 - тайфун
 - сель

6. В Москве зелёный контейнер типа колокол для отдельного сбора мусора предназначен для

- картона
- стекла
- бумаги
- пластика

7. Определите минимальное рекомендуемое расстояние эвакуации при обнаружении предмета, подозрительного на взрывное устройство (кейс).

- 230 м
- 250 м
- 60 м
- 460 м



8. Верны ли следующие суждения?

Понятие рационального питания включает соблюдение следующих принципов:

- обеспечение баланса энергии, поступающей с пищей и расходуемой человеком в процессе жизнедеятельности
- удовлетворение потребности организма во всех пищевых веществах
- верно только А
- верно только Б
- верны оба суждения
- оба суждения не верны

9. В результате ожога руки горячей водой на месте травмы появились покраснение, отёк, единичные пузыри с прозрачным содержимым. Пострадавший жалуется на жгучую боль. По признакам определите степень ожога.

- первая
- вторая
- третья
- четвёртая

10. Окклюзионная повязка применяется при ранении

- головы
- груди
- конечностей
- таза

Определите два правильных ответа.

За каждый правильный ответ начисляется 2 балла.

0 баллов выставляется за неправильный ответ, а также, если участником отмечено более двух ответов (в том числе правильные).

11. Какие виды костров рекомендуют использовать для приготовления пищи, просушки белья и обогрева?

- «Нодья»
- «Пирамида»
- «Полинезийский»
- + «Шалаш»
- + «Решётка»

12. Что НЕ РЕКОМЕНДУЕТСЯ делать в грозу?

- разводить костёр
- прятаться под низкими кустарниками
- + прижиматься к стволу дерева
- + находиться от дерева на расстоянии 4–5 м
- сидеть в позе эмбриона

13. Что относится к сопутствующим проявлениям опасных факторов пожара?

- + снижение видимости в дыму
- воздействие огнетушащих веществ
- + тепловой поток
- повышенная температура окружающей среды
- + опасные факторы взрыва, произошедшего вследствие пожара

14. Определите дату создания РСЧС.

- 8 мая
- + 18 апреля
- 15 июня
- + 1993 года
- + 1992 года

15. Определите признаки устойчивого ненастья.

- сильно мерцают звёзды
- + в воздухе сырость днём и ночью, даже при отсутствии дождя
- + ночью нет росы или она очень слабая
- венцы вокруг Луны уменьшаются
- + мелкие птицы забиваются в середину крон деревьев

16. **Определите рекомендации безопасного поведения в лифте.**

- постарайтесь по возможности быстрее выйти из лифта
- если с вами в лифт садится незнакомец, пропустите его, поднимитесь позже или воспользуйтесь лестницей
- если с вами в лифт садится незнакомец, достаньте мобильный телефон, тем самым показывая, что готовы воспользоваться им
- если с вами в лифт садится незнакомец, постарайтесь занять угол в лифте
- не спешите заходить в лифт, осмотритесь

17. **Экстремистская деятельность (экстремизм) – это**

- публичное оправдание терроризма
- подстрекательство к террористическому акту
- вербовка, вооружение, обучение и использование террористов
- пропаганда идей терроризма
- воспрепятствование осуществлению гражданскими избирательных прав

18. **Какие из пищевых веществ относятся к макронутриентам?**

- витамины
- макроэлементы
- белки
- микроэлементы
- жиры

19. **Пешеход поскользнулся, упал с упором на вытянутую руку. В области запястья появились резкая боль, отёк. Какие суставы необходимо иммобилизовать в данном случае?**

- плечевой
- локтевой
- лучезапястный
- пястно-фаланговые
- межфаланговые

20. **Что рекомендуется делать для определения наличия (отсутствия) сознания пострадавшего при оказании первой помощи?**

- аккуратно похлопать по щекам пострадавшего
- обратиться к пострадавшему вопросом, например, «Вы в порядке?»
- растереть мочки ушей пострадавшего
- осторожно встряхнуть за плечи
- похлопать в ладоши передухом пострадавшего

Максимальный балл за тестовые задания – 60.







20

0020804

Теоретические задания

21. На территории России можно встретить растения, представляющие угрозу для здоровья человека. Каждый должен знать о таких растениях и уметь их отличать.

Установите соответствие между изображением растения и его названием.

	5		1 Белладонна (красавка)
	3		2 Вехядовитый
	2		3 Борщевик Сосновского
	1		4 Клещевина
	4		5 Белена чёрная

12

22. Подробный осмотр пострадавшего при оказании первой помощи выполняется в определённой последовательности.

Расставьте наименования анатомических областей тела человека в последовательности выполнения их осмотра.

Очередность выполнения подробного осмотра
1.
2.
3.
4.
5.
6.

Наименование анатомических областей тела человека
Конечности 1
Грудь 4
Спина 5
Голова 2 d
Шея 3
Живот и таз 6 x

2

23. Выберите **два** цели подробного осмотра пострадавшего.

- выявление признаков наружного кровотечения
- 4 выявление признаков травм
- выявление признаков отравлений, других состояний, угрожающих жизни и здоровью пострадавшего
- контроль за состоянием пострадавшего
- определение признаков жизни у пострадавшего

24. Флаги на пляжах предназначены для информирования пользователей о потенциальных рисках.

Какой флаг вывешивается на пляжах Российской Федерации, когда купание запрещено?

- чёрный
- жёлтый
- фиолетовый
- чёрный/красный (разделённый на четыре части)
- жёлтый флаг с центральным чёрным кругом

Определите, о чём информируют изображённые флаги на пляжах за пределами Российской Федерации.

Значение флага: средняя опасность; высокая опасность; присутствуют морские водоросли; присутствует морская ветер, надувные лодки использовать нельзя; использование водного транспорта запрещено (например, доски для сёрфинга); рекомендуемая зона для купания под наблюдением спасателей; район плавсредств.

25. Определите, о чём информирует изображённый флаг на пляжах за пределами Российской Федерации.



зона для купания при морской ветре.

26. Определите, о чём информирует изображённый флаг на пляжах за пределами Российской Федерации.




средняя опасность.

27. Определите, о чём информирует изображённый флаг на пляжах за пределами Российской Федерации.



морской ветер | зона для купания под наблюдением спасателей

28. Определите, о чём информирует изображённый флаг на пляжах за пределами Российской Федерации.



высокая опасность

0

Максимальный балл за работу – 100.

Иванов М.И.
Таранова С.В.
Колесников Е.И.

345 x 3 = 102

ТИТУЛЬНЫЙ ЛИСТ

Всероссийская олимпиада школьников

школьный этап

Заполняется ПЕЧАТНЫМИ БУКВАМИ чернилами черного или синего цвета по образцам:

А	Б	В	Г	Д	Е	Ж	З	И	К	Л	М	Н	О	П	Р	С	Т	У	Ф	Х	Ц	Ч	Ш	Щ	Ъ	Ы	Ь	Э	Ю	Я	@	8	9	,
А	В	С	Д	Е	Г	Ж	З	И	К	Л	М	Н	О	П	Р	Q	R	S	T	U	V	W	X	Y	Z	1	2	3	4	5	6	7	0	.

ПРЕДМЕТ 0 5 3 P КЛАСС 9 B

ДАТА 1 4 . 1 0 . 2 0 2 4

ШИФР
УЧАСТНИКА

0 0 2 0 9 1 1

ФАМИЛИЯ АБРАМУК
 ИМЯ АРТЕМ
 ОТЧЕСТВО ИГОРЕВИЧ

Документ удостоверяющий личность

свидетельство о рождении

паспорт

серия

номер

Гражданство

Российская Федерация

Иное

Дата рождения 2 4 . 0 3 . 2 0 0 9

Домашний телефон участника + 7 9 2 8 3 4 9 5 9 1 7

Мобильный телефон участника + 7 9 2 8 3 4 9 5 9 1 7

Электронный адрес участника

Муниципалитет ГЕОРГИЕВСКИЙ МУНИЦИПАЛЬНЫЙ ОКРУГ

Сокращенное наименование образовательной организации (школы)

МБОУ гимназия №2

Сведения о педагогах-наставниках

1. Фамилия ИВАНОВ
 Имя МИХАИЛ
 Отчество ИУВЬЕВИЧ

Сокращенное наименование образовательной организации (школы)

МБОУ гимназия №2

Личная подпись участника



Все поля обязательны к
заполнению!

0020911
ВСЕРОССИЙСКАЯ ОЛИМПИАДА ШКОЛЬНИКОВ
ОБЗР. 2024–2025 уч. г.
ШКОЛЬНЫЙ ЭТАП. 9 КЛАСС

Максимальный балл за работу – 100.

Тестовые задания

Определите один правильный ответ.

За правильный ответ начисляется 2 балла.

1. **В соответствии с ПДД РФ водителем транспортного средства велосипедист**
 - не является
 - является только в возрасте старше 14 лет
 - 2 • является всегда
 - не является в возрасте младше 7 лет

2. **Расстояние от газового баллона до отопительного прибора должно быть не менее**
 - 1 м
 - 0,5 м
 - 1,5 м
 - 0,8 м

3. **Определите время потери сознания человеком при нахождении в воде температурой 15° С.**
 - 0,25 – 1,0 ч
 - 2 2,0 – 4,0 ч
 - 5,0 – 7,0 ч
 - 1,0 – 1,5 ч

4. **Система мероприятий по подготовке к защите и по защите населения, материальных и культурных ценностей на территории Российской Федерации от опасностей, возникающих при военных конфликтах или вследствие этих конфликтов, а также при чрезвычайных ситуациях природного и техногенного характера –**
 - РСЧС
 - 2 ГО
 - МПВО
 - ГУ НЦУКС

5. **Определите опасное метеорологическое явление (процесс).**

- цунами
- вулканический пепел
- 2 • циклон
- сель

6. **В Москве в синий мусорный контейнер нельзя выбрасывать**

- бумагу
- металл
- 2 • фаянс
- пластик

7. **Определите минимально рекомендуемое расстояние эвакуации при обнаружении предмета, подозрительного на взрывное устройство (микроавтобус).**

- 2 • 1240 м
- 460 м
- 920 м
- 580 м

8. **Укажите соотношение белков, жиров, углеводов, отвечающее требованиям здорового питания.**

- 2 • 1:2:4
- 1:4:1
- 2:3:4
- 1:1:4

9. **Даны два утверждения:**

1. Для оказания первой помощи пострадавшему с механической травмой глаза рекомендуется промыть поврежденный глаз проточной водой.

2. Для оказания первой помощи пострадавшему с механической травмой глаза рекомендуется наложить повязку на оба глаза. Какие из утверждений являются верными?

- верно только первое
- 2 • верно только второе
- оба верны
- оба неверны

10. **Давящая повязка предназначена для**

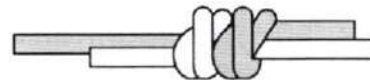
- 2 • иммобилизации
- герметизации раны
- лечения раны
- остановки кровотечения

Определите два правильных ответа.

За каждый правильный ответ начисляется 2 балла.
Обаллов выставляется за неправильный ответ, а также,
если участником отмечено более двух ответов (в том числе правильные).

11. Определите название узла и его применение при выполнении технического приёма.

- 2
- Грейпвайн
 - для крепления верёвки к поре/карабину
 - встречная восьмёрка
 - для связывания верёвок одинакового диаметра
 - булинь



12. В какие деревья чаще всего бьёт молния?

- 2
- дуб
 - акация
 - бук
 - липа
 - тополь

13. На какие группы подразделяются по горючести вещества и материалы?

- 2
- Горючие
 - не распространяющие
 - трудно воспламеняемые
 - негорючие
 - дымообразующие

14. Определите дату создания ГИМС.

- 2
- 1934 года
 - 15 июня
 - 26 апреля
 - 1 марта
 - 1984 года

15. Определите признаки перемены погоды к лучшему.

- 2
- венцы вокруг Луны уменьшаются.
 - сильно мерцают звёзды
 - ночью, и днём умеренно тепло
 - разница между дневной и ночной температурами увеличивается
 - угли в костре быстро покрываются золой

16. При перевозке в лифте ребёнка в коляске

- при выходе сначала вы ходите сами с ребёнком на руках, а затем вывозите коляску
- при входе возьмите ребёнка на руки, войдите в кабину, а потом вывезите коляску
- 2 • при входе вывезите коляску, а потом войдите в кабину
- при входе войдите в кабину, а потом вывезите коляску
- при выходе сначала вывезите коляску, а затем выйдите сами с ребёнком на руках

17. Организатором каких мероприятий может быть гражданин Российской Федерации, достигший возраста 16 лет?

- демонстраций
- пикетирований
- шествий
- митингов
- собраний

18. Какие из перечисленных утверждений относятся к инфекционным заболеваниям?

- первый период течения заболевания называется периодом начальных проявлений
- непосредственной причиной заболевания является переохлаждение или переутомление
- 2 • механизм передачи инфекции зависит от локализации возбудителя в организме человека
- для распространения инфекции достаточно двазвена: источник инфекции (больной человек или носитель) и восприимчивый организм (здоровый человек)
- для заболевания характерна цикличность течения

19. На какие анатомические участки конечностей НЕ рекомендуется накладывать кровоостанавливающий жгут?

- 2 • верхнюю треть плеча
- среднюю треть плеча
- нижнюю треть плеча
- среднюю треть бедра
- надколеностопным суставом

20. Как не признаются общими для всех механических закрытых травм?

- укорочение конечности
- костный хруст
- деформация конечности
- кровоизлияние
- отёк

2

40






Максимальный балл за тестовые задания – 60.

0020917

Теоретические задания

21. На территории России можно встретить грибы, представляющие угрозу для здоровья человека. Каждый должен знать о таких грибах и уметь их отличать.

Установите соответствие между изображением гриба и его названием.

			Бледная поганка
			Ложноопёнок
			Сатанинский гриб
			Перечный гриб
			Желчный гриб

Handwritten blue arrows indicate the following matches:
- Row 1 (Image 1) to Row 4 (Перечный гриб)
- Row 2 (Image 2) to Row 3 (Сатанинский гриб)
- Row 3 (Image 3) to Row 1 (Бледная поганка)
- Row 4 (Image 4) to Row 2 (Ложноопёнок)
- Row 5 (Image 5) to Row 5 (Желчный гриб)

0

22. Прочитайте текст правил выполнения сердечно-лёгочной реанимации. Вставьте пропущенные числовые значения.

«Давление руками на грудину пострадавшего при проведении сердечно-лёгочной реанимации должно выполняться с частотой: от 100 (1) до 120 (2) раз в минуту, на глубину: от 35 см до 46 см.

При проведении искусственного дыхания необходимо соблюдать ряд правил.

Оказывающий первую помощь делает нормальный вдох и плотно охватывает своими губами рот пострадавшего. Далее выполняет равномерный выдох в течение 1 (5) секунд (-ы). Два вдоха искусственного дыхания должны занять не более 10 (6) секунд (-ы).

При проведении реанимации двумя «спасателями» один выполняет давления руками на грудину пострадавшего, второй – искусственное дыхание. Соотношение давлений на грудину пострадавшего и вдохов искусственного дыхания должно составлять 30 (7):2 (8) соответственно. Примерно 2 (9) каждые (9) минуты «спасатели» меняются местами: тот, кто выполнял давления руками на грудину пострадавшего, приступает к проведению искусственного дыхания и наоборот».

(180)

23. При проведении сердечно-лёгочной реанимации у детей надавливания руками на грудину пострадавшего выполняются на глубину равную

- одной второй переднезаднего размера грудной клетки
- одной третьей переднезаднего размера грудной клетки
- одной четвертой переднезаднего размера грудной клетки
- одной пятой переднезаднего размера грудной клетки

2

24. В целях своевременного информирования населения о возникновении угрозы террористического акта и организации деятельности по противодействию его совершению на отдельных участках территории Российской Федерации (объектах) могут устанавливаться уровни террористической опасности.

Кто принимает решение об установлении, изменении или отмене повышенного («синего») и высокого («жёлтого») уровней террористической опасности на территории (отдельных участках территории) субъекта Российской Федерации (объектах, находящихся на территории субъекта Российской Федерации)?

- председатель антитеррористической комиссии в соответствующем субъекте Российской Федерации по согласованию с руководителем территориального органа безопасности в соответствующем субъекте Российской Федерации
- председатель Национального антитеррористического комитета на основании представления председателя антитеррористической комиссии в соответствующем субъекте Российской Федерации
- председатель антитеррористической комиссии в соответствующем субъекте Российской Федерации по согласованию с председателем Национального антитеррористического комитета
- руководитель территориального органа безопасности в соответствующем субъекте Российской Федерации по согласованию с председателем антитеррористической комиссии в соответствующем субъекте Российской Федерации

4

0020911

25. Установите соответствие между условием установления уровня террористической опасности и наименованием, цветовым обозначением уровня.

Наименование уровня: повышенный; высокий; потенциально опасный; критический; чрезвычайно опасный.

Цветовое обозначение уровня: синий; оранжевый; красный; фиолетовый; жёлтый.

Условие установления уровня террористической опасности	Наименование уровня	Цветовое обозначение уровня
При наличии требующей подтверждения информации о реальной возможности совершения террористического акта	повышенный	синий
При наличии подтверждённой информации о реальной возможности совершения террористического акта	высокий	жёлтый
При наличии информации о совершённом террористическом акте либо о совершении действий, создающих непосредственную угрозу террористического акта	критический	красный

60

$$40 + 30 : 2 = 35$$

Максимальный балл за работу – 100.

Иванов М.Ю.
Тарасова С.Р.
Смирнов Е.И.

355 x 3 = 105

ТИТУЛЬНЫЙ ЛИСТ

Всероссийская олимпиада школьников

школьный этап

Заполняется ПЕЧАТНЫМИ БУКВАМИ чернилами черного или синего цвета по образцам:

А	Б	В	Г	Д	Е	Ж	З	И	К	Л	М	Н	О	П	Р	С	Т	У	Ф	Х	Ц	Ч	Ш	Щ	Ъ	Ы	Ь	Э	Ю	Я	@	8	9	,
A	B	C	D	E	F	G	H	I	J	K	L	M	N	O	P	Q	R	S	T	U	V	W	X	Y	Z	1	2	3	4	5	6	7	0	.

ПРЕДМЕТ КЛАСС

ДАТА . .

**ШИФР
УЧАСТНИКА**

ФАМИЛИЯ
 ИМЯ
 ОТЧЕСТВО

Документ удостоверяющий личность свидетельство о рождении паспорт **Гражданство** Российская Федерация Иное

серия номер

Дата рождения . .

Домашний телефон участника + 7
 Мобильный телефон участника + 7
 Электронный адрес участника

Муниципалитет
 Сокращенное наименование образовательной организации (школы)

Сведения о педагогах-наставниках

1. Фамилия
 Имя
 Отчество

Сокращенное наименование образовательной организации (школы)

Личная подпись участника



Все поля обязательны к заполнению!

0020901
ВСЕРОССИЙСКАЯ ОЛИМПИАДА ШКОЛЬНИКОВ
ОБЗР. 2024–2025 уч. г.
ШКОЛЬНЫЙ ЭТАП. 9 КЛАСС

Максимальный балл за работу – 100.

Тестовые задания

Определите один правильный ответ.

За правильный ответ начисляется 2 балла.

1. **В соответствии с ПДД РФ водителем транспортного средства велосипедист**
 - не является
 - является только в возрасте старше 14 лет
 - является всегда
 - не является в возрасте младше 7 лет

2. **Расстояние от газового баллона до отопительного прибора должно быть не менее**
 - 1 м
 - 0,5 м
 - 1,5 м
 - 0,8 м

3. **Определите время потери сознания человека при нахождении в воде температурой 15° С.**
 - 0,25 – 1,0 ч
 - 2 2,0 – 4,0 ч
 - 5,0 – 7,0 ч
 - 1,0 – 1,5 ч

4. **Система мероприятий по подготовке к защите и по защите населения, материальных и культурных ценностей на территории Российской Федерации от опасностей, возникающих при военных конфликтах или вследствие этих конфликтов, а также при чрезвычайных ситуациях природного и техногенного характера –**
 - РСЧС
 - 2 ГО
 - МПВО
 - ГУ НЦУКС

5. **Определите опасное метеорологическое явление (процесс).**

- цунами
- вулканический пепел
- 2 циклон
- сель

6. **В Москве в синий мусорный контейнер нельзя выбрасывать**

- бумагу
- металл
- фаянс
- пластик

7. **Определите минимально рекомендуемое расстояние эвакуации при обнаружении предмета, подозрительного на взрывное устройство (микроавтобус).**

- 1240 м
- 2 460 м
- 920 м
- 580 м

8. **Укажите соотношение белков, жиров, углеводов, отвечающее требованиям здорового питания.**

- 1:2:4
- 0 1:4:1
- 2:3:4
- 1:1:4

9. **Даны два утверждения:**

1. Для оказания первой помощи пострадавшему с механической травмой глаза рекомендуется промыть поврежденный глаз проточной водой.

2. Для оказания первой помощи пострадавшему с механической травмой глаза рекомендуется наложить повязку на оба глаза.

Какие из утверждений являются верными?

- 0 верно только первое
- верно только второе
- оба верны
- оба неверны

10. **Давящая повязка предназначена для**

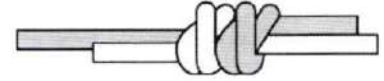
- иммобилизации
- 2 герметизации раны
- лечения раны
- остановки кровотечения

Определите два правильных ответа.

За каждый правильный ответ начисляется 2 балла.
Обаллов выставляется за неправильный ответ, а также,
если участником отмечено более двух ответов (в том числе правильные).

11. Определите название узла и его применение при выполнении технического приёма.

- Грейпвайн
- для крепления верёвки к поре/карабину
- встречная восьмёрка
- для связывания верёвок одинакового диаметра
- булинь



12. В какие деревья чаще всего бьёт молния?

- дуб
- акация
- бук
- липа
- тополь

13. На какие группы подразделяются по горючести вещества и материалы?

- горючие
- не распространяющие
- трудно воспламеняемые
- негорючие
- дымообразующие

14. Определите дату создания ГИМС.

- 1934 года
- 15 июня
- 26 апреля
- 1 марта
- 1984 года

15. Определите признаки перемены погоды к лучшему.

- Венцы вокруг Луны уменьшаются.
- сильно мерцают звёзды
- ночью, и днём умеренно тепло
- Разница между дневной и ночной температурами увеличивается
- Углекислотные облака покрываются золой

16. При перевозке в лифте ребёнка в коляске

- при выходе сначала выйдите сами с ребёнком на руках, а затем вывозите коляску
- при входе возьмите ребёнка на руки, войдите в кабину, а потом вывезите коляску
- при входе вывезите коляску, а потом войдите в кабину
- при входе войдите в кабину, а потом вывезите коляску
- при выходе сначала вывезите коляску, а затем выйдите сами с ребёнком на руках

17. Организатором каких мероприятий может быть гражданин Российской Федерации, достигший возраста 16 лет?

- демонстраций
- пикетирований
- шествий
- митингов
- собраний

18. Какие из перечисленных утверждений относятся к инфекционным заболеваниям?

- первый период течения заболевания называется периодом начальных проявлений
- непосредственной причиной заболевания является переохлаждение или переутомление
- механизм передачи инфекции зависит от локализации возбудителя в организме человека
- для распространения инфекции достаточно два звена: источник инфекции (больной человек или носитель) и восприимчивый организм (здоровый человек)
- для заболевания характерна цикличность течения

19. На какие анатомические участки конечностей НЕ рекомендуется накладывать кровоостанавливающий жгут?

- верхнюю треть плеча
- среднюю треть плеча
- нижнюю треть плеча
- среднюю треть бедра
- надколеностопным суставом

20. Какие признаки являются общими для всех механических закрытых травм?

- укорочение конечности
- 2 • костный хруст
- деформация конечности
- кровоизлияние
- отёк

16

(265)






Максимальный балл за тестовые задания – 60.

~~24~~

Теоретические задания

21. На территории России можно встретить грибы, представляющие угрозу для здоровья человека. Каждый должен знать о таких грибах и уметь их отличать.

Установите соответствие между изображением гриба и его названием.

			Бледная поганка
			Ложноопёнок
			Сатанинский гриб
			Перечный гриб
			Желчный гриб

Handwritten blue lines connect the images to the names on the right. The connections are as follows:

- Image 1 (top) connects to "Ложноопёнок".
- Image 2 connects to "Бледная поганка".
- Image 3 connects to "Желчный гриб".
- Image 4 connects to "Сатанинский гриб".
- Image 5 (bottom) connects to "Перечный гриб".

22. Прочитай текст правил выполнения сердечно-лёгочной реанимации. Вставьте пропущенные числовые значения.

«Давление руками на грудину пострадавшего при проведении сердечно-лёгочной реанимации должно выполняться с частотой: от 100 (1) до 120 (2) раз в минуту, на глубину: от 3 (3) см до 4 (4) см.

При проведении искусственного дыхания необходимо соблюдать ряд правил.

Оказывающий первую помощь делает нормальный вдох и плотно охватывает свои губами рот пострадавшего. Далее выполняет равномерный выдох в течение 1 (5) секунд (-ы). Два вдоха искусственного дыхания должны занять не более 2 (6) секунд (-ы).

При проведении реанимации двумя «спасателями» один выполняет давления руками на грудину пострадавшего, второй – искусственное дыхание. Соотношение давлений на грудину пострадавшего и вдохов искусственного дыхания должно составлять (7):(8) соответственно. Примерно каждые (9) минуты «спасатели» меняются местами: тот, кто выполнял давления руками на грудину пострадавшего, приступает к проведению искусственного дыхания и наоборот».

23. При проведении сердечно-лёгочной реанимации у детей надавливания руками на грудину пострадавшего выполняются на глубину равную

- одной второй переднезаднего размера грудной клетки
- ⊙ одной трети переднезаднего размера грудной клетки
- одной четвертой переднезаднего размера грудной клетки
- одной пятой переднезаднего размера грудной клетки

24. В целях своевременного информирования населения о возникновении угрозы террористического акта и организации деятельности по противодействию его совершению на отдельных участках территории Российской Федерации (объектах) могут устанавливаться уровни террористической опасности.

Кто принимает решение об установлении, изменении или отмене повышенного («синего») и высокого («жёлтого») уровней террористической опасности на территории (отдельных участках территории) субъекта Российской Федерации (объектах, находящихся на территории субъекта Российской Федерации)?

- председатель антитеррористической комиссии в соответствующем субъекте Российской Федерации по согласованию с руководителем территориального органа безопасности в соответствующем субъекте Российской Федерации
- председатель Национального антитеррористического комитета на основании представления председателя антитеррористической комиссии в соответствующем субъекте Российской Федерации
- председатель антитеррористической комиссии в соответствующем субъекте Российской Федерации по согласованию с председателем Национального антитеррористического комитета
- руководитель территориального органа безопасности в соответствующем субъекте Российской Федерации по согласованию с председателем антитеррористической комиссии в соответствующем субъекте Российской Федерации

12

25. Установите соответствие между условием установления уровня террористической опасности и наименованием, цветовым обозначением уровня.

Наименование уровня: повышенный; высокий; потенциально опасный; критический; чрезвычайно опасный.

Цветовое обозначение уровня: синий; оранжевый; красный; фиолетовый; жёлтый.

Условие установления уровня террористической опасности	Наименование уровня	Цветовое обозначение уровня
При наличии требующей подтверждения информации о реальной возможности совершения террористического акта	повышенный высокий	синий.
При наличии подтверждённой информации о реальной возможности совершения террористического акта	высокий	жёлтый.
При наличии информации о совершённом террористическом акте либо о совершении действий, создающих непосредственную угрозу террористического акта	критический.	красный.

Максимальный балл за работу – 100.

Иванов М.Ю.
Таранова С.В.
Смирнов С.И.



37x3 (117)

ТИТУЛЬНЫЙ ЛИСТ

Всероссийская олимпиада школьников

школьный этап

Заполняется ПЕЧАТНЫМИ БУКВАМИ чернилами черного или синего цвета по образцам:

А	Б	В	Г	Д	Е	Ж	З	И	К	Л	М	Н	О	П	Р	С	Т	У	Ф	Х	Ц	Ч	Ш	Щ	Ъ	Ы	Ь	Э	Ю	Я	@	8	9	,
A	B	C	D	E	F	G	H	I	J	K	L	M	N	O	P	Q	R	S	T	U	V	W	X	Y	Z	1	2	3	4	5	6	7	0	.

ПРЕДМЕТ КЛАСС

ДАТА . .

ШИФР
УЧАСТНИКА

ФАМИЛИЯ
ИМЯ
ОТЧЕСТВО

Документ удостоверяющий личность свидетельство о рождении паспорт Гражданство Российская Федерация Иное

серия номер

Дата рождения . .

Домашний телефон участника + 7
Мобильный телефон участника + 7
Электронный адрес участника

Муниципалитет
Сокращенное наименование образовательной организации (школы)

Сведения о педагогах-наставниках

1. Фамилия
Имя
Отчество

Сокращенное наименование образовательной организации (школы)

Личная подпись участника

Все поля обязательны к заполнению!

1. **ВсоответствиисПДДРФводителемтранспортногосредства велосипедист**

- не является
- являетсятолькоковвозрастестарше14 лет
- + является всегда
- не являетсяввозрастемладше7 лет

2. **Расстояниенеотгазовогобаллонадоотопительногоприборадолжно быть не менее**

- + 1 м
- 0,5 м
- 1,5 м
- 0,8 м

3. **Определитевремяпотерисознаниячеловекомпринахождении в воде температурой 15° С.**

- 0,25 – 1,0 ч
- + 2,0 – 4,0 ч
- 5,0 – 7,0 ч
- 1,0 – 1,5 ч

4. **Система мероприятий по подготовке к защите и по защите населения, материальных и культурных ценностей на территории Российской Федерации от опасностей, возникающих при военных конфликтах или вследствие этих конфликтов, а также при чрезвычайных ситуациях природного и техногенного характера –**

- + РСЧС
- ГО
- МПВО
- ГУ НЦУКС

быть не менее

- 1 м
- 0,5 м
- 1,5 м
- 0,8 м

3. **Определите время потери сознания человека при нахождении в воде температурой 15° С.**

- 0,25 – 1,0 ч
- 2,0 – 4,0 ч
- 5,0 – 7,0 ч
- 1,0 – 1,5 ч

4. **Система мероприятий по подготовке к защите и по защите населения, материальных и культурных ценностей на территории Российской Федерации от опасностей, возникающих при военных конфликтах или вследствие этих конфликтов, а также при чрезвычайных ситуациях природного и техногенного характера –**

- РСЧС
- ГО
- МПВО
- ГУ НЦУКС

• 380M

8. Укажите соотношение белков, жиров, углеводов, отвечающее требованиям здорового питания.

- 1:2:4
- 1:4:1
- 2:3:4
- 1:1:4

9. Даны два утверждения:

1. Для оказания первой помощи пострадавшему с механической травмой глаза рекомендуется промыть повреждённый глаз проточной водой.

2. Для оказания первой помощи пострадавшему с механической травмой глаза рекомендуется наложить повязку на оба глаза.

Какие из утверждений являются верными?

- верно только первое
- верно только второе
- оба верны
- оба неверны

10. Давящая повязка предназначена для

- иммобилизации
- герметизации раны
- лечения раны
- остановки кровотечения

0020310

ВСЕРОССИЙСКАЯ ОЛИМПИАДА ШКОЛЬНИКОВ
ОБЗР. 2024–2025 уч. г.
ШКОЛЬНЫЙ ЭТАП. 9 КЛАСС

Максимальный балл за работу – 100.

Тестовые задания

Определите один правильный ответ.

За правильный ответ начисляется 2 балла.

1. **В соответствии с ПДД РФ водителем транспортного средства велосипедист**

- не является
- является только в возрасте старше 14 лет
- является всегда
- не является в возрасте младше 7 лет

0020910

Всероссийская олимпиада школьников. ОБЖ. 2023–2024 уч. г.
Школьный этап. 9 класс

5. **Определите опасное метеорологическое явление (процесс).**

- цунами
- вулканический пепел
- ↓ циклон
- сель

6. **В Москве синий мусорный контейнер нельзя выбрасывать**

- бумагу
- металл
- 7 фаянс
- пластик

7. **Определите минимально рекомендуемое расстояние эвакуации при обнаружении предмета, подозрительного на взрывное устройство (микроавтобус).**

- 1240 м

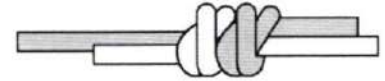


Определите два правильных ответа.

За каждый правильный ответ начисляется 2 балла.
0 баллов выставляется за неправильный ответ, а также,
если участником отмечено более двух ответов (в том числе правильные).

11. Определите название узла и его применение при выполнении технического приёма.

- Грейпвайн
- для крепления верёвки к поре/карабину
- встречная восьмёрка
- для связывания верёвок одинакового диаметра
- булинь



12. В какие деревья чаще всего бьёт молния?

- дуб
- акация
- бук
- липа
- тополь

13. На какие группы подразделяются по горючести вещества и материалы?

- горючие
- не распространяющие
- трудно воспламеняемые
- негорючие
- дымообразующие

14. Определите дату создания ГИМС.

- 1934 года
- 15 июня
- 26 апреля
- 1 марта
- 1984 года

15. Определите признаки перемены погоды к лучшему.

- венцы вокруг Луны уменьшаются.
- сильно мерцают звёзды
- вночь, и днём умеренно тепло
- разница между дневной и ночной температурами увеличивается
- угли в костре быстро покрываются золой

16. При перевозке в лифте ребёнка в коляске

- при выходе сначала выводитесь сами с ребёнком на руках, а затем вывозите коляску
- при входе возьмите ребёнка на руки, войдите в кабину, а потом вывезите коляску
- при входе вывезите коляску, а потом войдите в кабину
- при входе войдите в кабину, а потом вывезите коляску
- при выходе сначала вывезите коляску, а затем выйдите сами с ребёнком на руках

17. Организатором каких мероприятий может быть гражданин Российской Федерации, достигший возраста 16 лет?

- демонстраций
- пикетирований
- шествий
- митингов
- собраний

18. Какие из перечисленных утверждений относятся к инфекционным заболеваниям?

- первый период течения заболевания называется периодом начальных проявлений
- непосредственной причиной заболевания является переохлаждение или переутомление
- механизм передачи инфекции зависит от локализации возбудителя в организме человека
- для распространения инфекции достаточно двазвена: источник инфекции (больной человек или носитель) и восприимчивый организм (здоровый человек)
- для заболевания характерна цикличность течения

19. На какие анатомические участки конечностей НЕ рекомендуется накладывать кровоостанавливающий жгут?

- верхнюю треть плеча
- среднюю треть плеча
- нижнюю треть плеча
- среднюю треть бедра
- надколенную стопным суставом



Желчныйгриб

10

0020970

Всероссийская олимпиада школьников. ОБЖ. 2023–2024 уч. г.

Школьный этап. 9 класс

20. **Какие признаки являются общими для всех механических закрытых травм?**

- укорочение конечности
- костный хруст
- деформация конечности
- кровоизлияние
- отёк

40

Максимальный балл за тестовые задания – 60.

22. Прочитай текст правил выполнения сердечно-лёгочной реанимации. Вставьте пропущенные числовые значения.

«Давление руками на грудину пострадавшего при проведении сердечно-лёгочной реанимации должно выполняться с частотой: от 100 (1) до 120 (2) раз в минуту, на глубину: от 3 (3) см до 5 (4) см.

При проведении искусственного дыхания необходимо соблюдать ряд правил.

Оказывающий первую помощь делает нормальный вдох и плотно охватывает своими губами рот пострадавшего. Далее выполняет равномерный выдох в течение 1 (5) секунд (-ы). Два вдоха искусственного дыхания должны занять не более 10 (6) секунд (-ы).

При проведении реанимации двумя «спасателями» один выполняет давления руками на грудину пострадавшего, второй – искусственное дыхание. Соотношение давлений на грудину пострадавшего и вдохов искусственного дыхания должно составлять 3 (7):2 (8) соответственно. Примерно каждые 9 (9) 2 минуты «спасатели» меняются местами: тот, кто выполнял давления руками на грудину пострадавшего, приступает к проведению искусственного дыхания и наоборот».

18

23. При проведении сердечно-лёгочной реанимации у детей надавливания руками на грудину пострадавшего выполняются на глубину равную

- одной второй переднезаднего размера грудной клетки
- одной трети переднезаднего размера грудной клетки
- одной четвёртой переднезаднего размера грудной клетки
- одной пятой переднезаднего размера грудной клетки

2

24. В целях своевременного информирования населения о возникновении угрозы террористического акта и организации деятельности по противодействию его совершению на отдельных участках территории Российской Федерации (объектах) могут устанавливаться уровни террористической опасности.

Кто принимает решение об установлении, изменении или отмене повышенного («синего») и высокого («жёлтого») уровней террористической опасности на территории (отдельных участках территории) субъекта Российской Федерации (объектах, находящихся на территории субъекта Российской Федерации)?

- председатель антитеррористической комиссии в соответствующем субъекте Российской Федерации по согласованию с руководителем территориального органа безопасности в соответствующем субъекте Российской Федерации
- председатель Национального антитеррористического комитета на основании представления председателя антитеррористической комиссии в соответствующем субъекте Российской Федерации
- председатель антитеррористической комиссии в соответствующем субъекте Российской Федерации по согласованию с председателем Национального антитеррористического комитета
- руководитель территориального органа безопасности в соответствующем субъекте Российской Федерации по согласованию с председателем антитеррористической комиссии в соответствующем субъекте Российской Федерации

Максимальный балл за работу - 100.

Иванов М. И.
Таранова С. В.
Смирнов Е. И.

6

$$350 \times 3 = 105$$

002 0910

Всероссийская олимпиада школьников. ОБЖ. 2023–2024 уч. г.

Школьный этап. 9 класс

25. Установите соответствие между условием установления уровня террористической опасности и наименованием, цветовым обозначением уровня.

Наименование уровня: повышенный; высокий; потенциально опасный; критический; чрезвычайно опасный.

Цветовое обозначение уровня: синий; оранжевый; красный; фиолетовый; жёлтый.

Условие установления уровня террористической опасности	Наименование уровня	Цветовое обозначение уровня
При наличии требующей подтверждения информации о реальной возможности совершения террористического акта	повышенный	синий
При наличии подтверждённой информации о реальной возможности совершения террористического акта	высокий	жёлтый
При наличии информации о совершённом террористическом акте	критический	красный

1009 гимназия № 27. Георгиевск

Сведения о педагогах-наставниках

1. Фамилия

Иванов

Имя

Михаил

Отчество

Юрьевич

Сокращенное наименование образовательной организации
(школы)

Личная подпись участника



Все поля обязательны к
заполнению!

ТИТУЛЬНЫЙ ЛИСТ

Всероссийская олимпиада школьников

школьный этап

Заполняется ПЕЧАТНЫМИ БУКВАМИ чернилами черного или синего цвета по образцам:

А	Б	В	Г	Д	Е	Ж	З	И	К	Л	М	Н	О	П	Р	С	Т	У	Ф	Х	Ц	Ч	Ш	Щ	Ъ	Ы	Ь	Э	Ю	Я	@	8	9	,
А	В	С	D	E	F	G	H	I	J	K	L	M	N	O	P	Q	R	S	T	U	V	W	X	Y	Z	1	2	3	4	5	6	7	0	.

ПРЕДМЕТ

0 Б 3 Р

КЛАСС 9 А

ДАТА

14 . 10 . 2024

ШИФР
УЧАСТНИКА

0 0 2 0 9 0 9

ФАМИЛИЯ

Крищен

ИМЯ

Дмитрий

ОТЧЕСТВО

Сергеевич

Документ удостоверяющий личность

свидетельство о рождении

паспорт

Гражданство

Российская
Федерация

серия

номер

Иное

Дата рождения

12 . 06 . 2009

Домашний телефон
участника

+ 7

9 6 3 3 8 5 2 7 4 4

Мобильный телефон
участника

+ 7

Электронный адрес

- при выходе сначала вывезите коляску, а затем выходите сами с ребёнком на руках

17. Организатором каких мероприятий может быть гражданин Российской Федерации, достигший возраста 16 лет?

- демонстраций
- + • пикетирований
- шествий
- 2 • митингов
- собраний

18. Какие из перечисленных утверждений относятся к инфекционным заболеваниям?

- первый период течения заболевания называется периодом начальных проявлений
- непосредственной причиной заболевания является переохлаждение или переутомление
- • механизм передачи инфекции зависит от локализации возбудителя в организме человека
- для распространения инфекции достаточно два звена: источник инфекции (больной человек или носитель) и восприимчивый организм (здоровый человек)
- для заболевания характерна цикличность течения

19. На какие анатомические участки конечностей НЕ рекомендуется накладывать кровоостанавливающий жгут?

- верхнюю треть плеча
- • среднюю треть плеча
- нижнюю треть плеча
- среднюю треть бедра
- надколенную стопным суставом

технического приема.

• грейпвайн

для крепления верёвки к опоре/карабину

• встречная восьмёрка

• для связывания верёвок одинакового диаметра

• булинь



12. В какие деревья чаще всего бьёт молния?

• дуб

акация

• бук

липа

• тополь

13. На какие группы подразделяются по горючести вещества и материалы?

• горючие

• не распространяющие

трудновоспламеняемые

• негорючие

дымообразующие

14. Определите дату создания ГИМС.

1934 года

• 15 июня

26 апреля

1 марта

• 1984 года

15. Определите признаки перемены погоды к лучшему.

венцы вокруг Луны уменьшаются.

• сильно мерцают звёзды

вночь, и днём умеренно тепло

• разница между дневной и ночной температурами увеличивается

• угли в костре быстро покрываются золой

0020909

Всероссийская олимпиада школьников. ОБЖ. 2023–2024 уч. г.

Школьный этап. 9 класс

16. При перевозке в лифте ребёнка в коляске

- при выходе с начала выходите сами с ребёнком наружу, а затем вывозите коляску
- при входе возьмите ребёнка наружу, войдите в кабину, а потом ввезите коляску

0020909

Всероссийская олимпиада школьников. ОБЖ. 2023–2024 уч. г.

Школьный этап. 9 класс

Определите два правильных ответа.

За каждый правильный ответ начисляется 2 балла.

0 баллов выставляется за неправильный ответ, а также, если участником отмечено более двух ответов (в том числе правильные).

- 1:4:1

- 2:3:4

- 1:1:4

9. Даны два утверждения:

1. Для оказания первой помощи пострадавшему с механической травмой глаза рекомендуется промыть повреждённый глаз проточной водой.

2. Для оказания первой помощи пострадавшему с механической травмой глаза рекомендуется наложить повязку на оба глаза. Какие из утверждений являются верными?

- верно только первое

- верно только второе

- оба верны

- оба неверны

10. Давящая повязка предназначена для

- иммобилизации

- герметизации раны

- лечения раны

- остановки кровотечения

- 0,8 м

3. **Определите время потери сознания человека при нахождении в воде температурой 15° С.**

- 0,25 – 1,0 ч

2

- 2,0 – 4,0 ч

- 5,0 – 7,0 ч

- 1,0 – 1,5 ч

4. **Система мероприятий по подготовке к защите и по защите населения, материальных и культурных ценностей на территории Российской Федерации от опасностей, возникающих при военных конфликтах или вследствие этих конфликтов, а также при чрезвычайных ситуациях природного и техногенного характера –**

2

- РСЧС

- ГО

- МПВО

- ГУ НЦУКС

0020909

Всероссийская олимпиада школьников. ОБЖ. 2023–2024 уч. г.
Школьный этап. 9 класс

5. **Определите опасное метеорологическое явление (процесс).**

- цунами
- вулканический пепел
- циклон
- сель

6. **В Москве синий мусорный контейнер нельзя выбрасывать**

- бумагу
- металл
- фаянс
- пластик

7. **Определите минимально рекомендуемое расстояние эвакуации при обнаружении предмета, подозрительного на взрывное устройство (микроавтобус).**

- 1240 м
- 460 м
- 920 м
- 580 м



0020909

Всероссийская олимпиада школьников. ОБЖ. 2023–2024 уч. г.

Школьный этап. 9 класс

20. Какие признаки являются общими для всех механических закрытых травм?

- укорочение конечности
- костный хруст
- деформация конечности
- кровоизлияние
- отёк






125

Максимальный балл за тестовые задания – 60.

Теоретические задания

21. На территории России можно встретить грибы, представляющие угрозу для здоровья человека. Каждый должен знать о таких грибах и уметь их отличать.

Установите соответствие между изображением гриба и его названием.

	<input type="checkbox"/>	Бледная поганка
	<input type="checkbox"/>	Ложноопёнок
	<input type="checkbox"/>	Сатанинский гриб
	<input type="checkbox"/>	Перечный гриб
	<input type="checkbox"/>	Желчный гриб

уровня.

Наименование уровня: повышенный; высокий; потенциально опасный; критический; чрезвычайно опасный.

Цветовое обозначение уровня: синий; оранжевый; красный; фиолетовый; жёлтый.

Условие установления уровня террористической опасности	Наименование уровня	Цветовое обозначение уровня
При наличии требующей подтверждения информации о реальной возможности совершения террористического акта	повышенный	синий
При наличии подтверждённой информации о реальной возможности совершения террористического акта		
При наличии информации о совершённом террористическом акте либо о совершении действий, создающих непосредственную угрозу террористического акта		

2

Максимальный балл за работу – 100.

М.И. Иванев
С.В. Тарасова
Э.И. Смирнов

$(38) \times 3 =$
 (114)

ПРЕДМЕТ

0 БЗР

КЛАСС 10Б

ДАТА

14.10.2024

ШИФР
УЧАСТНИКА

0 0 2 1 0 0 9

ФАМИЛИЯ

СУХОИДЯЕВСКАЯ

ИМЯ

АРИНА

ОТЧЕСТВО

АЛЕКСЕЕВНА

Документ удостоверяющий личность

свидетельство о рождении

паспорт

Гражданство

Российская
Федерация

серия

номер

Иное

Дата рождения

28.11.2008

Домашний телефон
участника

+ 7

Мобильный телефон
участника

+ 7 9 28 32 59 44 5

Электронный адрес
участника

aaasuh@mail.ru

Муниципалитет

Бердзевский муниципальный округ

Сокращенное наименование образовательной организации
(школы)

МБОУ гимназия №1 г. Бердзевск

Сведения о педагогах-наставниках

1. Фамилия

Мяснов

Имя

Александр

Отчество

Иванович

Сокращенное наименование образовательной организации
(школы)

МБОУ гимназия №1 г. Бердзевск

Личная подпись участника

Все поля обязательны к
заполнению!